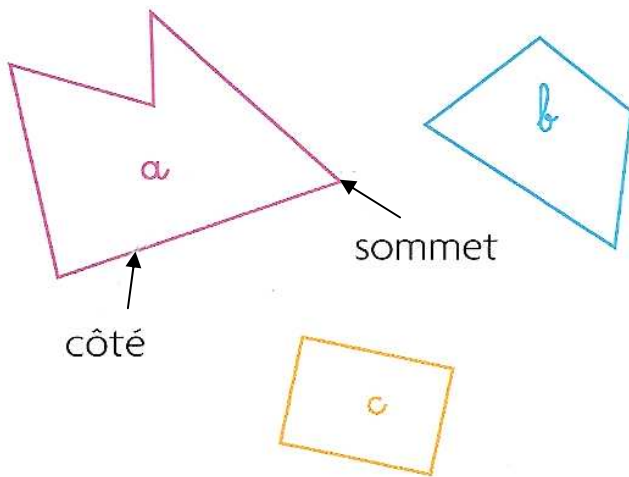



Les polygones / Les carrés et les rectangles

• Un polygone se trace à la règle.

Les figures *a*, *b* et *c*
sont des polygones.



Les figures *d* et *e*
ne sont pas des polygones.



Utilise ton double-décimètre
et un gabarit d'angle droit.

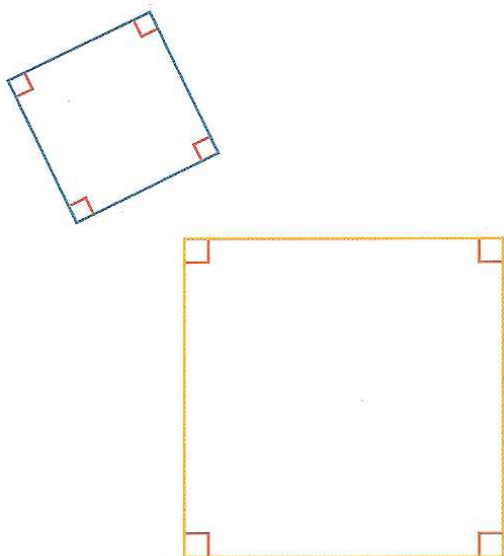


• Pour reconnaître un carré ou un rectangle :

Un carré

Il a quatre côtés qui ont la
même longueur.

Il a quatre angles droits.



Un rectangle

Il a deux petits côtés et deux
grands côtés.

Ses côtés opposés ont même
longueur.

Il a quatre angles droits.

