

La valeur des chiffres : Dizaines et unités


POUR COMPRENDRE CE QUE VAUT UN CHIFFRE :

- Dans **35** , le chiffre 3 vaut **3 dizaines**
ou **30 unités**.

35, c'est **3** dizaines et 5 unités.

$$35 = 30 + 5$$



$$35 = 10 + 10 + 10 + 5$$



Il faut regarder à quelle place il est écrit.



Tu peux utiliser ce tableau avec ton feutre velleda pour t'aider à retrouver le nombre des dizaines et le nombre des unités.

	
dizaines	unités